


Zadanie 2.

Na którym rysunku zamalowano mniej niż 25% figury ?

a)



b)



c)



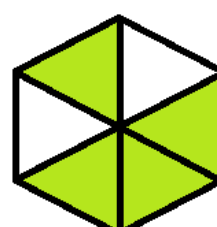
d)



e)



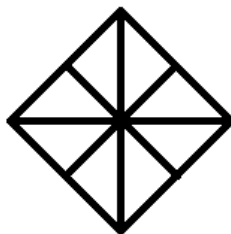
f)



g)



h)



i)

